


РОЖДЕН ДЕН

Днес  има рожден ден.



Дойдоха на гости  ,  и .

 постлап  . Сложил  с .

  с   и .

И ето ги и гостите! Всички донесли подаръци.

 подарил на  вкусен .

 поднесла въздушен .


А  дала на   и .

 ,  ,  и  пили чай

от красиви  и яли .

После весело и дружно играли!

Прочети текста, като вместо картинките ги назовавай. Измисли своя подобна история! Приятна работа!








© Woojr.com. All Rights Reserved.






Открой и оцвети предметите от лентата в картинката! Приятна работа!








© WooJr.com. All Rights Reserved.





Открий и оцвети предметите от лентата в картинката! Състави и напиши в тетрадката си по едно изречение с всяка от тях! Приятна работа!

	+	<input type="text"/>			+	<input type="text"/>
		<input type="text"/>				<input type="text"/>
		<input type="text"/>				<input type="text"/>

	+	<input type="text"/>			+	<input type="text"/>
		<input type="text"/>				<input type="text"/>
		<input type="text"/>				<input type="text"/>


	+	<input type="text"/>			+	<input type="text"/>
		<input type="text"/>				<input type="text"/>
		<input type="text"/>				<input type="text"/>

Пресметни задачите като си помагаш със зарчетата! Приятна работа!

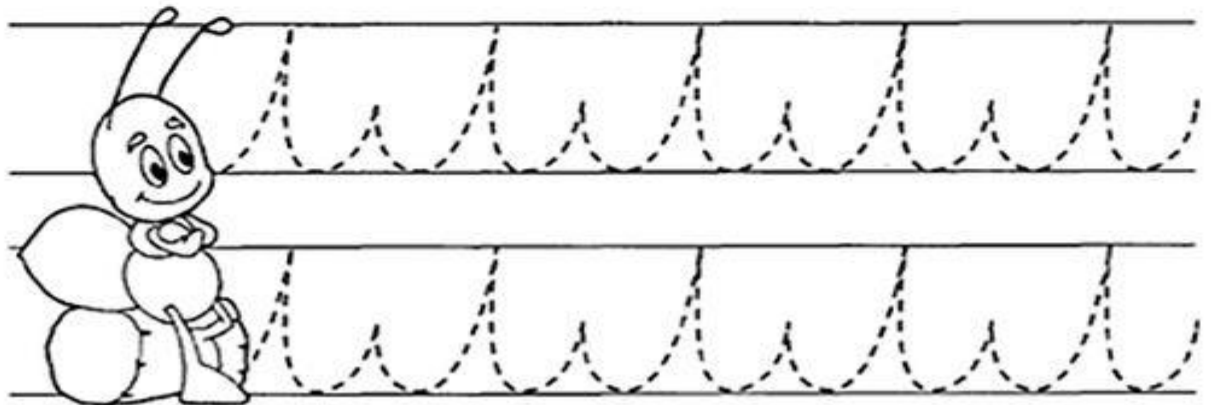
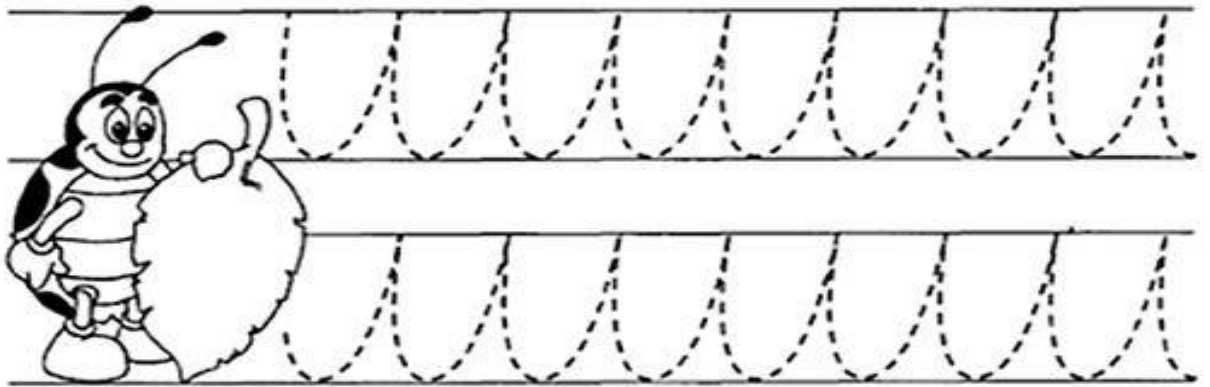
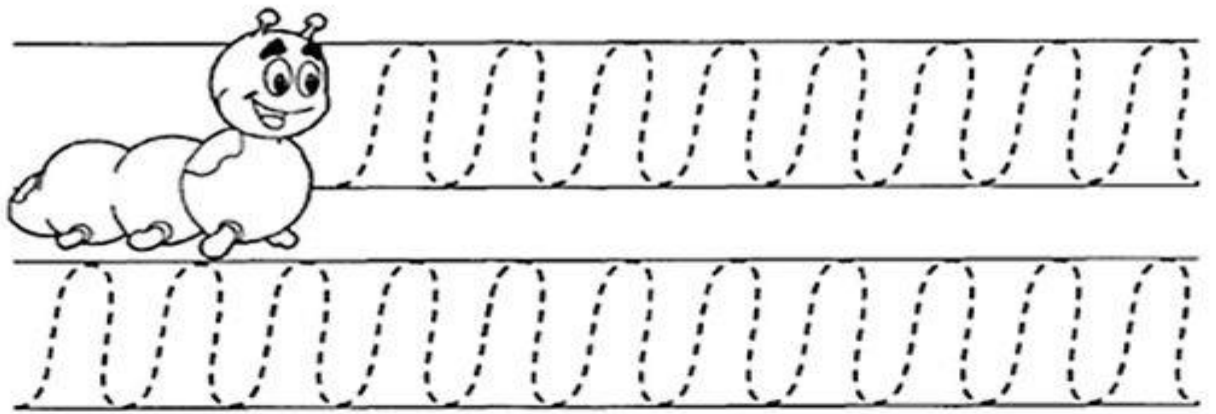


Matematik Dikkat Çalışması

Напиши липсващото число в мъфините! Оцвети ги, ако желаеш!
Приятна работа!



Повтори пътя на всяко от животните! Оцвети ги! Приятна работа!




Повтори пътя на всяко от животните! Оцвети ги! Приятна работа!

Задачи за Никита – 4 клас- Математика

1. Реши задачите:

1	2	3	4
$70 + 20 =$ _____	$10 + 70 =$ _____	$50 + 40 =$ _____	$30 - 30 =$ _____
$60 + 0 =$ _____	$20 + 20 =$ _____	$10 + 60 =$ _____	$100 - 40 =$ _____
$90 + 10 =$ _____	$30 + 60 =$ _____	$40 + 40 =$ _____	$30 - 10 =$ _____
$20 + 50 =$ _____	$40 + 30 =$ _____	$30 + 20 =$ _____	$70 - 0 =$ _____
$40 + 60 =$ _____	$50 + 0 =$ _____	$10 + 50 =$ _____	$80 - 30 =$ _____
$60 + 10 =$ _____	$80 + 10 =$ _____	$20 + 30 =$ _____	$100 - 100 =$ _____
$40 + 0 =$ _____	$40 + 10 =$ _____	$80 - 10 =$ _____	$30 - 0 =$ _____
$40 + 20 =$ _____	$10 + 20 =$ _____	$10 - 10 =$ _____	$90 - 90 =$ _____
$50 + 10 =$ _____	$50 + 30 =$ _____	$60 - 40 =$ _____	$70 - 50 =$ _____
$30 + 10 =$ _____	$10 + 10 =$ _____	$40 - 20 =$ _____	$100 - 80 =$ _____
$60 + 30 =$ _____	$50 + 50 =$ _____	$90 - 60 =$ _____	$70 - 70 =$ _____
$30 + 70 =$ _____	$10 + 30 =$ _____	$60 - 50 =$ _____	$100 - 50 =$ _____
$60 + 20 =$ _____	$20 + 10 =$ _____	$50 - 20 =$ _____	$90 - 70 =$ _____
$80 + 20 =$ _____	$20 + 80 =$ _____	$40 - 10 =$ _____	$80 - 0 =$ _____
$20 + 60 =$ _____	$80 + 0 =$ _____	$90 - 30 =$ _____	$70 - 10 =$ _____
$10 + 80 =$ _____	$30 + 50 =$ _____	$80 - 20 =$ _____	$60 - 30 =$ _____
$70 + 10 =$ _____	$20 + 0 =$ _____	$60 - 60 =$ _____	$80 - 80 =$ _____
$50 + 20 =$ _____	$40 + 50 =$ _____	$90 - 10 =$ _____	$100 - 10 =$ _____
$20 + 40 =$ _____	$10 + 90 =$ _____	$70 - 30 =$ _____	$60 - 0 =$ _____
$70 + 0 =$ _____	$30 + 40 =$ _____	$90 - 40 =$ _____	$100 - 60 =$ _____
$30 + 30 =$ _____	$90 + 0 =$ _____	$40 - 0 =$ _____	$60 - 20 =$ _____
$20 + 70 =$ _____	$60 + 40 =$ _____	$70 - 60 =$ _____	$100 - 70 =$ _____
$30 + 0 =$ _____	$70 + 30 =$ _____	$80 - 70 =$ _____	$90 - 20 =$ _____

2. Пресметни:



$\begin{array}{r} 63 \\ + 24 \\ \hline \end{array}$	$\begin{array}{r} 42 \\ + 50 \\ \hline \end{array}$	$\begin{array}{r} 15 \\ + 63 \\ \hline \end{array}$	$\begin{array}{r} 71 \\ + 6 \\ \hline \end{array}$	$\begin{array}{r} 45 \\ + 32 \\ \hline \end{array}$
-----------------------------------------------------	-----------------------------------------------------	-----------------------------------------------------	----------------------------------------------------	-----------------------------------------------------

$\begin{array}{r} 86 \\ + 12 \\ \hline \end{array}$	$\begin{array}{r} 16 \\ + 52 \\ \hline \end{array}$	$\begin{array}{r} 45 \\ + 34 \\ \hline \end{array}$	$\begin{array}{r} 50 \\ + 19 \\ \hline \end{array}$	$\begin{array}{r} 61 \\ + 17 \\ \hline \end{array}$
-----------------------------------------------------	-----------------------------------------------------	-----------------------------------------------------	-----------------------------------------------------	-----------------------------------------------------

$\begin{array}{r} 42 \\ + 36 \\ \hline \end{array}$	$\begin{array}{r} 54 \\ + 22 \\ \hline \end{array}$	$\begin{array}{r} 35 \\ + 41 \\ \hline \end{array}$	$\begin{array}{r} 27 \\ + 31 \\ \hline \end{array}$	$\begin{array}{r} 30 \\ + 49 \\ \hline \end{array}$
-----------------------------------------------------	-----------------------------------------------------	-----------------------------------------------------	-----------------------------------------------------	-----------------------------------------------------

$\begin{array}{r} 15 \\ + 72 \\ \hline \end{array}$	$\begin{array}{r} 23 \\ + 54 \\ \hline \end{array}$	$\begin{array}{r} 41 \\ + 18 \\ \hline \end{array}$	$\begin{array}{r} 20 \\ + 59 \\ \hline \end{array}$	$\begin{array}{r} 62 \\ + 16 \\ \hline \end{array}$
-----------------------------------------------------	-----------------------------------------------------	-----------------------------------------------------	-----------------------------------------------------	-----------------------------------------------------

$\begin{array}{r} 44 \\ + 33 \\ \hline \end{array}$	$\begin{array}{r} 51 \\ + 26 \\ \hline \end{array}$	$\begin{array}{r} 36 \\ + 61 \\ \hline \end{array}$	$\begin{array}{r} 25 \\ + 42 \\ \hline \end{array}$	$\begin{array}{r} 72 \\ + 12 \\ \hline \end{array}$
-----------------------------------------------------	-----------------------------------------------------	-----------------------------------------------------	-----------------------------------------------------	-----------------------------------------------------

3. Опитай да решиш задачите сама. Ако се затрудняваш, използвай калкулатор! Приятна работа!

$\begin{array}{r} -186 \\ 42 \end{array}$	$\begin{array}{r} -118 \\ 53 \end{array}$	$\begin{array}{r} -287 \\ 36 \end{array}$	$\begin{array}{r} +119 \\ 52 \end{array}$
$\begin{array}{r} -283 \\ 93 \end{array}$	$\begin{array}{r} -441 \\ 78 \end{array}$	$\begin{array}{r} -353 \\ 36 \end{array}$	$\begin{array}{r} +481 \\ 38 \end{array}$
$\begin{array}{r} -350 \\ 99 \end{array}$	$\begin{array}{r} +523 \\ 51 \end{array}$	$\begin{array}{r} -164 \\ 87 \end{array}$	$\begin{array}{r} -257 \\ 27 \end{array}$
$\begin{array}{r} -154 \\ 37 \end{array}$	$\begin{array}{r} -126 \\ 83 \end{array}$	$\begin{array}{r} +270 \\ 99 \end{array}$	$\begin{array}{r} +239 \\ 84 \end{array}$
$\begin{array}{r} +695 \\ 46 \end{array}$	$\begin{array}{r} -539 \\ 49 \end{array}$	$\begin{array}{r} +387 \\ 38 \end{array}$	$\begin{array}{r} -781 \\ 95 \end{array}$
$\begin{array}{r} -617 \\ 67 \end{array}$	$\begin{array}{r} +438 \\ 28 \end{array}$	$\begin{array}{r} +152 \\ 39 \end{array}$	$\begin{array}{r} -512 \\ 37 \end{array}$
$\begin{array}{r} -575 \\ 88 \end{array}$	$\begin{array}{r} -354 \\ 78 \end{array}$	$\begin{array}{r} -283 \\ 93 \end{array}$	$\begin{array}{r} -177 \\ 89 \end{array}$
$\begin{array}{r} -500 \\ 32 \end{array}$	$\begin{array}{r} -401 \\ 76 \end{array}$	$\begin{array}{r} -340 \\ 37 \end{array}$	$\begin{array}{r} -600 \\ 33 \end{array}$
$\begin{array}{r} +343 \\ 47 \end{array}$	$\begin{array}{r} -714 \\ 96 \end{array}$	$\begin{array}{r} -360 \\ 99 \end{array}$	$\begin{array}{r} +145 \\ 33 \end{array}$

КОЛІЧЕСТВО ОЦІНОК

ОЦІНКА СЕРІ

ОЦІНКА

www.znanyia.com.ua

Name _____

$$\begin{array}{r} 356 \\ -134 \\ \hline \end{array}$$

$$\begin{array}{r} 683 \\ -256 \\ \hline \end{array}$$

$$\begin{array}{r} 492 \\ -175 \\ \hline \end{array}$$

$$\begin{array}{r} 715 \\ -261 \\ \hline \end{array}$$

$$\begin{array}{r} 640 \\ -154 \\ \hline \end{array}$$

$$\begin{array}{r} 364 \\ +182 \\ \hline \end{array}$$

$$\begin{array}{r} 467 \\ +248 \\ \hline \end{array}$$

$$\begin{array}{r} 438 \\ +175 \\ \hline \end{array}$$

$$\begin{array}{r} 614 \\ +269 \\ \hline \end{array}$$

$$\begin{array}{r} 373 \\ +568 \\ \hline \end{array}$$

$$\begin{array}{r} 713 \\ -153 \\ \hline \end{array}$$

$$\begin{array}{r} 950 \\ -291 \\ \hline \end{array}$$

$$\begin{array}{r} 840 \\ -262 \\ \hline \end{array}$$

$$\begin{array}{r} 647 \\ +276 \\ \hline \end{array}$$

$$\begin{array}{r} 598 \\ +242 \\ \hline \end{array}$$

$$\begin{array}{r} 469 \\ +362 \\ \hline \end{array}$$

$$\begin{array}{r} 601 \\ -220 \\ \hline \end{array}$$

$$\begin{array}{r} 724 \\ -177 \\ \hline \end{array}$$

$$\begin{array}{r} 835 \\ -305 \\ \hline \end{array}$$



За Никита – 4 клас- БЕЛ

1. Открий думите! Напиши по едно изречение с всяка от тях в тетрадката си по БЕЛ. Приятна работа!

Сред буквите са скрити
10 названия на дрехи.
Открий ги!

О	Е	Р	П	О	Л	А	И	Ф	Е	Ъ	К	Х	Ч	З
Б	Я	Л	Ж	Р	Ю	И	Ъ	О	Р	Ъ	Ж	Г	У	Т
Р	К	О	С	Т	Ю	М	И	Г	Л	Ш	Е	Т	Т	Г
Ъ	Ж	И	Ц	Т	Ю	Н	Ъ	Я	Н	А	Ж	Ж	Ю	Е
П	Ъ	Т	Ф	М	Ш	Ъ	Р	Л	О	П	И	Х	Т	Ъ
Ъ	Е	Е	М	А	Б	Ф	И	Ч	Ж	К	З	Е	В	З
Ф	И	И	Ч	О	Р	А	П	И	О	А	У	О	Ю	П
Д	Л	И	З	А	Ъ	Ж	И	Л	Е	Т	К	А	Ф	П
К	И	С	В	Е	Ж	З	Т	Ж	И	Ж	Р	Б	Ш	О
Ш	З	К	С	Ъ	Ъ	Ъ	П	П	И	И	Я	О	О	Ш
З	О	А	Ц	П	А	Н	Т	А	Л	О	Н	Ъ	Р	Я
Б	Ж	В	Е	И	И	Ш	Х	У	Б	Е	Ф	П	Т	Я
Р	В	А	Ъ	Е	Р	И	П	А	Л	Т	О	З	И	Ю
И	Ц	Ш	Т	Е	О	О	Е	П	О	Т	И	И	К	П
Ц	Ж	Ц	Е	С	П	Ъ	Е	Р	Б	Ъ	Б	Б	Ч	Т

Списък с думи

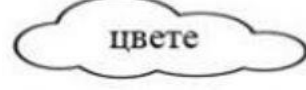
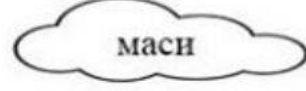

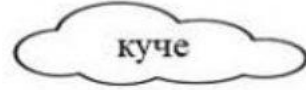


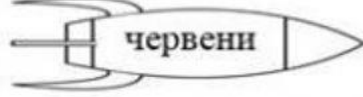
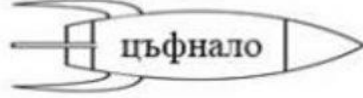
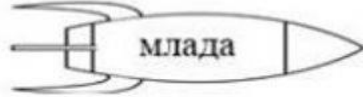

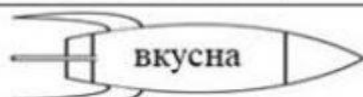
- | | | |
|-------------|------------|------------|
| 1. ЧОБАНИ | 1. ТИЗВСКА | 9. ШОРТИ |
| 2. ПЕЛЕНКА | 6. ПАЛТО | 10. КОСТЮМ |
| 3. ПОЛА | 7. ЖИЧЕТКА | |
| 4. ПАВТАЛОН | 8. БОТИНИ | |

РАБОТЕН ЛИСТ
„ПРИЛАГАТЕЛНО ИМЕ“

име:

дата:

**Свържи съществителните имена с подходящите прилагателни.
Запиши ги и ги определи по род и число.**



прилагателно име	съществително име	род и число

Състави изречения с някои от словосъчетанията:

1. _____
2. _____
3. _____